

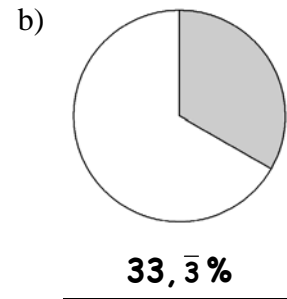
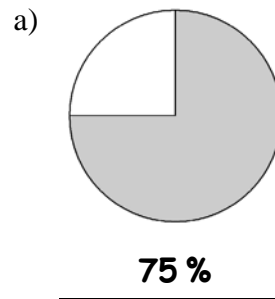
## Prozentrechnung

### Häufige Prozentsätze (Niveau 2)

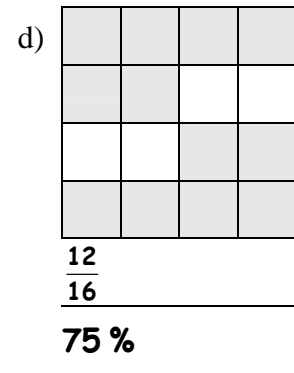
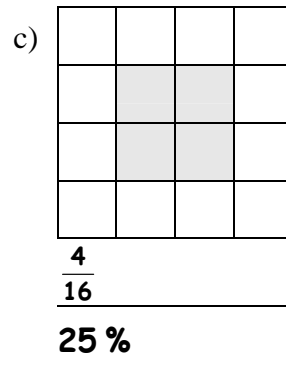
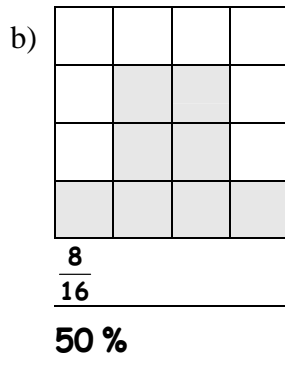
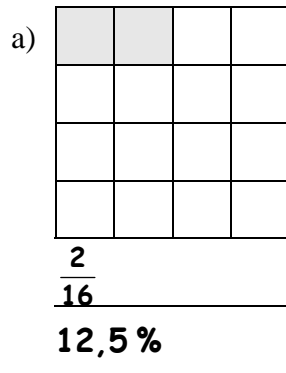
- 1 Die Prozentangaben in der Tabelle kommen besonders häufig vor.  
Schreibe zu jeder Prozentangabe den passenden Bruch und die zugehörige Dezimalzahl.

Prozent	5 %	10 %	12,5 %	20 %	25 %	33,3 %	50 %	66,6 %	75 %
Dezimalzahl	<b>0,05</b>	<b>0,1</b>	<b>0,125</b>	<b>0,2</b>	<b>0,25</b>	<b>0,3</b>	<b>0,5</b>	<b>0,6</b>	<b>0,75</b>
Bruch	$\frac{1}{20}$	$\frac{1}{10}$	$\frac{1}{8}$	$\frac{1}{5}$	$\frac{1}{4}$	$\frac{1}{3}$	$\frac{1}{2}$	$\frac{2}{3}$	$\frac{3}{4}$

- 2 Betrachte die Kreisdiagramme.  
Gib den grau gefärbten Anteil in Prozent an.



- 3 Gib den grau gefärbten Anteil als Bruch und in Prozent an.



- 4 Färbe jeweils den angegebenen Anteil.

