

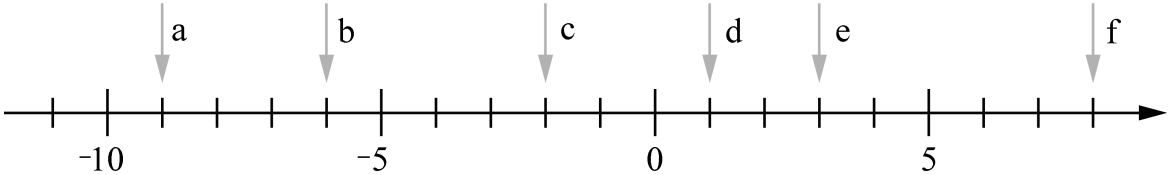
Name:	
Klasse:	Datum:

Arbeitsblatt Mathematik

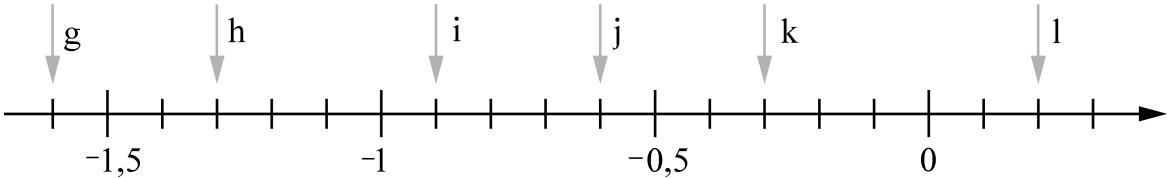
Rationale Zahlen

Rationale Zahlen auf der Zahlengeraden (Niveau 1) (1/2)

1 Lies von der Zahlengeraden die markierten Zahlen ab und schreibe sie auf.



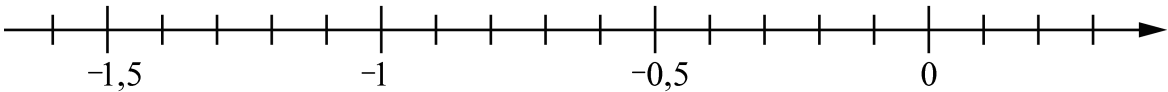
a) _____ b) _____ c) _____
d) _____ e) _____ f) _____



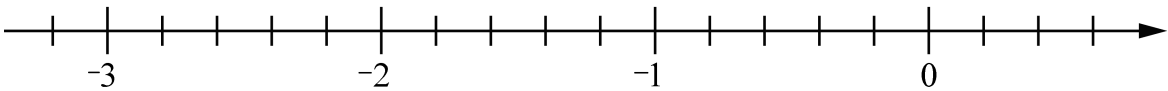
g) _____ h) _____ i) _____
j) _____ k) _____ l) _____

2 Markiere auf der Zahlengeraden die angegebenen Zahlen.

- a) -1,5 b) -0,2 c) 0,3
d) -1,1 e) -0,3 f) -0,9



- g) 0,2 h) -3,2 i) -1,2
j) -0,6 k) -2,4 l) -1,8



Name:

Klasse:

Datum:

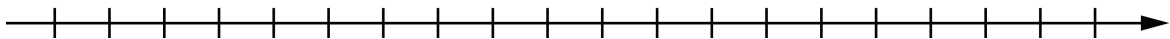
Arbeitsblatt Mathematik

Rationale Zahlen

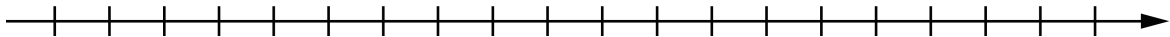
Rationale Zahlen auf der Zahlengeraden (Niveau 1) (2/2)

3 Teile die Zahlengeraden sinnvoll ein. Markiere dann die angegebenen Zahlen.

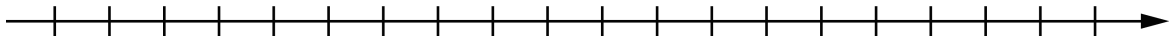
- a) 0 b) -9 c) 3
d) -5 e) -7 f) 4



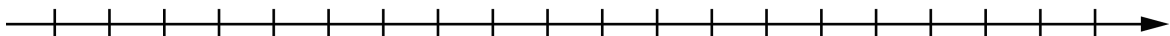
- g) 2 h) -0,5 i) -3,5
j) -7 k) 1,5 l) -1



- m) -0,1 n) -1 o) 0,5
p) -0,4 q) 0,1 r) -0,7



- s) 0,8 t) -0,3 u) -0,7
v) 0 w) 0,5 x) -0,4



Name:

Klasse:

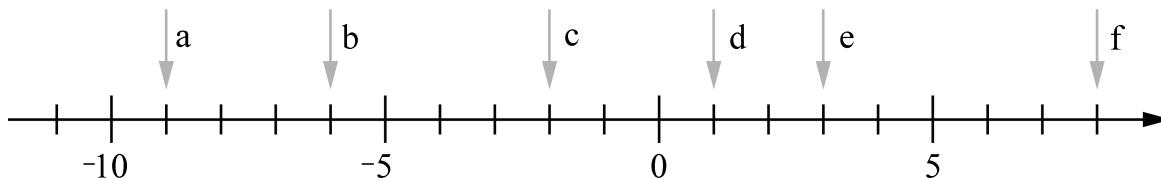
Datum:

Arbeitsblatt Mathematik

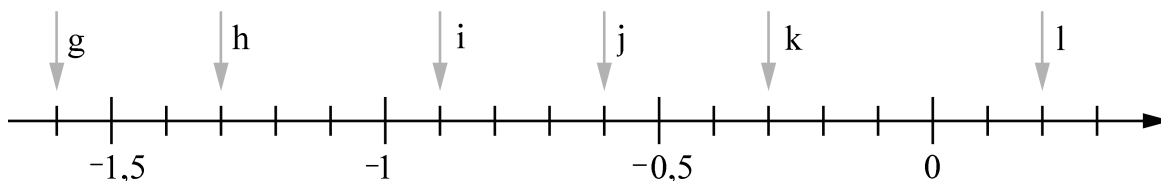
Rationale Zahlen

Rationale Zahlen auf der Zahlengeraden (Niveau 1) (1/2)

1 Lies von der Zahlengeraden die markierten Zahlen ab und schreibe sie auf.



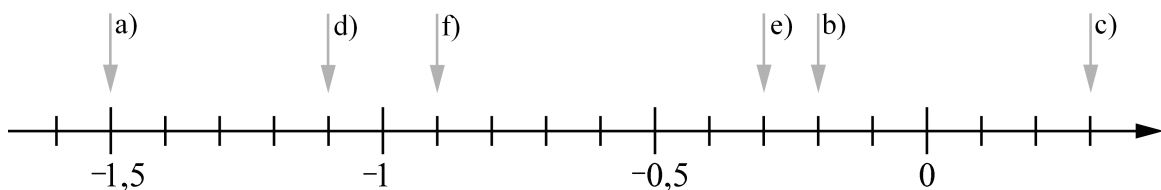
- a) -9 b) -6 c) -2
d) 1 e) 3 f) 8



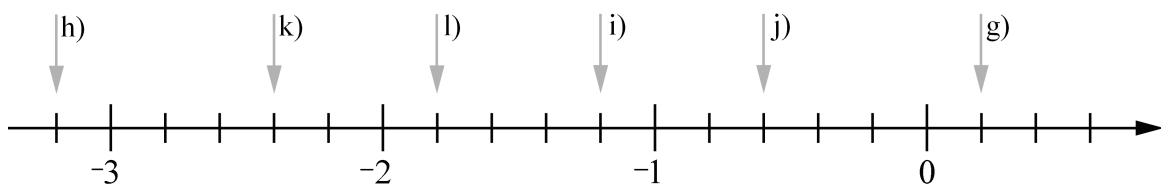
- g) -1,6 h) -1,3 i) -0,9
j) -0,6 k) -0,3 l) 0,2

2 Markiere auf der Zahlengeraden die angegebenen Zahlen.

- a) -1,5 b) -0,2 c) 0,3
d) -1,1 e) -0,3 f) -0,9



- g) 0,2 h) -3,2 i) -1,2
j) -0,6 k) -2,4 l) -1,8



Name:

Klasse:

Datum:

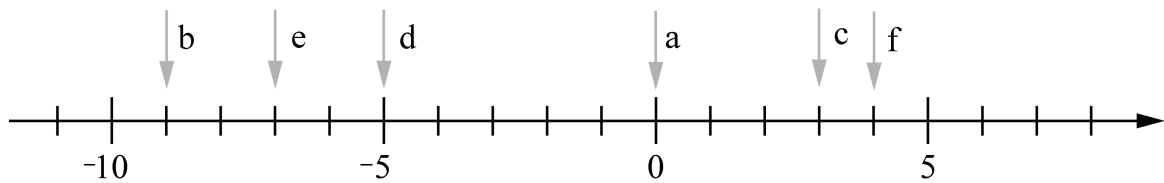
Arbeitsblatt Mathematik

Rationale Zahlen

Rationale Zahlen auf der Zahlengeraden (Niveau 1) (2/2)

3 Teile die Zahlengeraden sinnvoll ein. Markiere dann die angegebenen Zahlen.

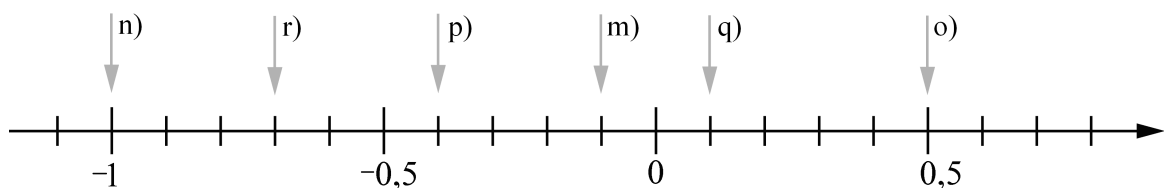
- a) 0 b) -9 c) 3
d) -5 e) -7 f) 4



- g) 2 h) -0,5 i) -3,5
j) -7 k) 1,5 l) -1



- m) -0,1 n) -1 o) 0,5
p) -0,4 q) 0,1 r) -0,7



- s) 0,8 t) -0,3 u) -0,7
v) 0 w) 0,5 x) -0,4

