

| | |
|---------|--------|
| Name: | |
| Klasse: | Datum: |

Arbeitsblatt Mathematik

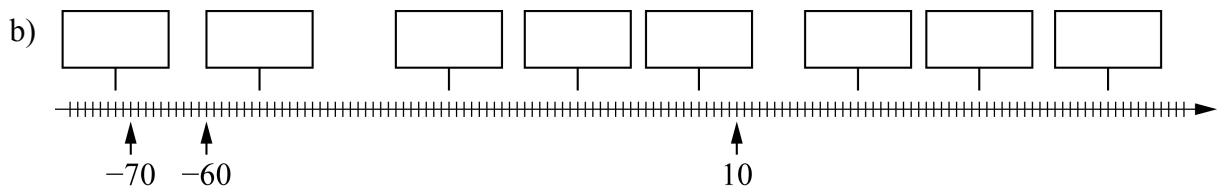
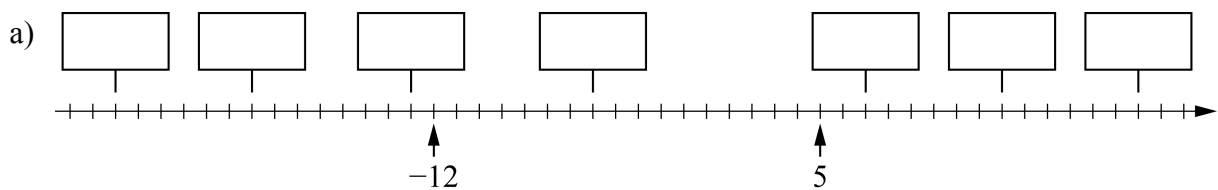
Rationale Zahlen

Zahl – Gegenzahl (Niveau 2)

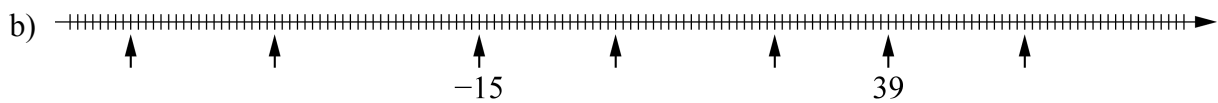
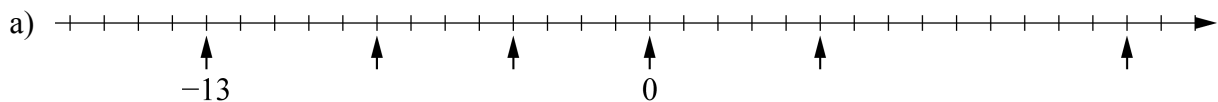
1 Notiere zu jeder Zahl ihre Gegenzahl:

| Zahl | Gegenzahl |
|-------|-----------|
| 246 | |
| -27,3 | |
| 0 | |

2 Schreibe in die Kästchen die richtige Zahl:



3 Trage zunächst bei jedem Pfeil die richtige Zahl ein.
Zeichne dann ein Kästchen an der Stelle für die Gegenzahl und schreibe sie hinein.



4 Ordne die Zahlen der Größe nach. Beginne mit der kleinsten Zahl.

a) 98 -102 89 -98 -89 b) 1,5 -1,1 -1,7 0,5

c) -8,4 -4,8 6,4 -4,6 -6,4 d) 11,01 -10,11 10,11 -10,01

| | |
|---------|--------|
| Name: | |
| Klasse: | Datum: |

Arbeitsblatt Mathematik

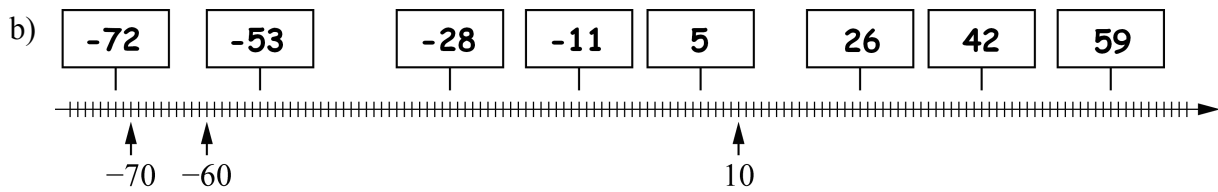
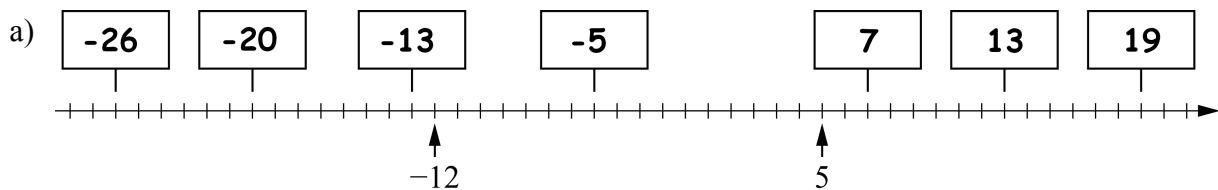
Rationale Zahlen

Zahl - Gegenzahl (Niveau 2)

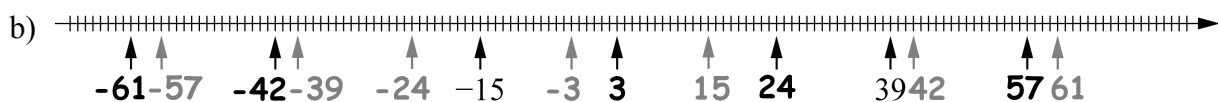
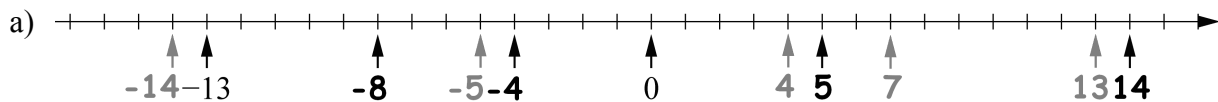
1 Notiere zu jeder Zahl ihre Gegenzahl:

| Zahl | Gegenzahl |
|-------|-------------|
| 246 | -246 |
| -27,3 | 27,3 |
| 0 | 0 |

2 Schreibe in die Kästchen die richtige Zahl:



3 Trage zunächst bei jedem Pfeil die richtige Zahl ein. Zeichne dann ein Kästchen an der Stelle für die Gegenzahl und schreibe sie hinein.



4 Ordne die Zahlen der Größe nach. Beginne mit der kleinsten Zahl.

a) 98 -102 89 -98 -89 b) 1,5 -1,1 -1,7 0,5
-102 < -98 < -89 < 89 < 98 **-1,7 < -1,1 < 0,5 < 1,5**

c) -8,4 -4,8 6,4 -4,6 -6,4 d) 11,01 -10,11 10,11 -10,01
-8,4 < -6,4 < -4,8 < -4,6 < 6,4 **-10,11 < -10,01 < 10,11 < 11,01**