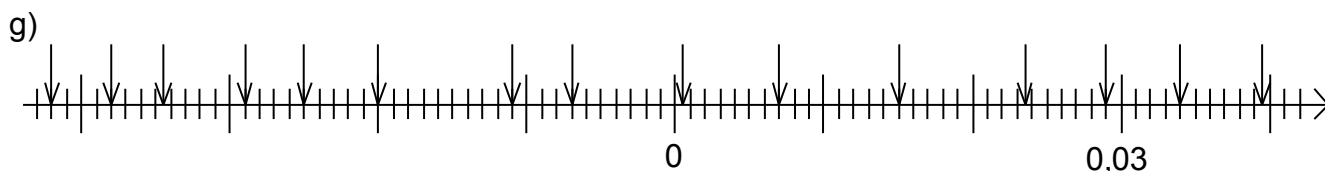
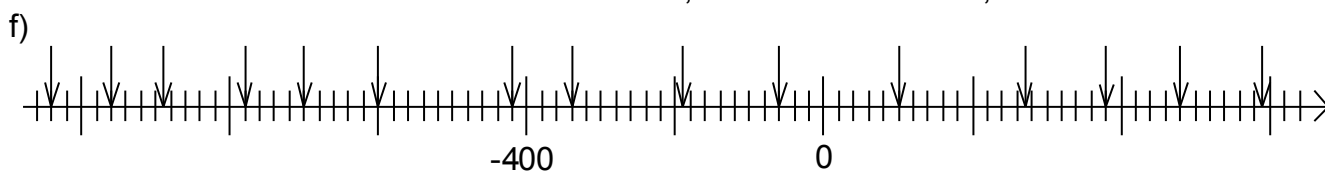
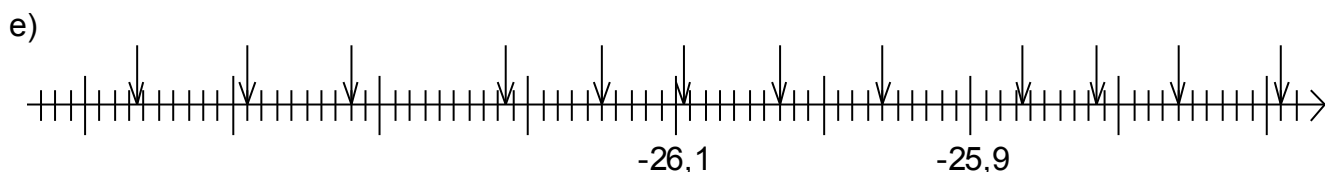
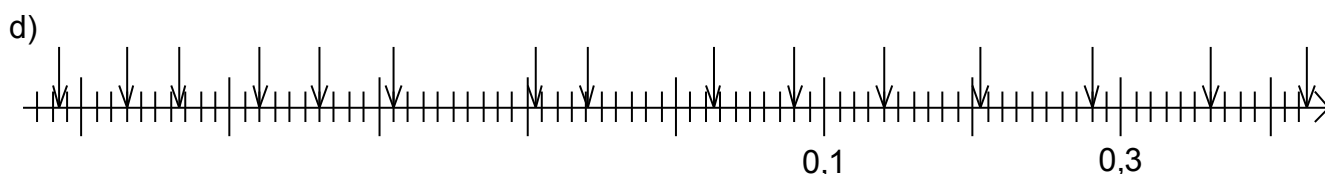
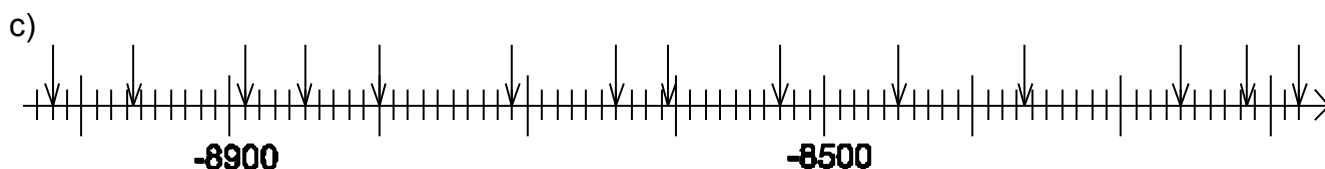


Übungsblatt: Rationale Zahlen und Zahlengerade

Klebe dieses Blatt in dein Heft.

Die Pfeile bezeichnen rationale Zahlen. Schreibe diese Zahlen von links nach rechts in dein Heft. Beschrifte zuerst die „langen“ Linien (Grobeinteilung). Die Pfeile sind teilweise sehr eng beieinander, deshalb die Zahlen nicht über die Pfeile schreiben.



Lösungen zu rationale Zahlen und Zahlengerade

a)	-3,2	-2,8	-2,45	-1,9	-1,5	-1	-0,1	0,3
	1,05	1,7	2,5	3,35	3,9	4,4	4,95	
b)	-42	-38	-34,5	-29	-25	-20	-11	-7
	0,5	7	15	23,5	29	34	39,5	
c)	-9020	-8965	-8890	-8850	-8800	-8710	-8640	-8605
	-8530	-8450	-8365	-8260	-8215	-8180		
d)	-0,415	-0,37	-0,335	-0,28	-0,24	-0,19	-0,095	-0,06
	0,025	0,08	0,14	0,205	0,28	0,36	0,425	
e)	-26,465	-26,39	-26,32	-26,215	-26,15	-26,03	-25,96	-25,865
	-25,815	-25,76	-25,69					
f)	-1040	-960	-890	-780	-700	-600	-420	-340
	-190	-60	100	270	380	480	590	
g)	-0,042	-0,038	-0,0345	-0,029	-0,025	-0,02	-0,011	-0,007
	0,0005	0,007	0,015	0,0235	0,029	0,034	0,0395	
h)	-0,96	-0,87	-0,78	-0,64	-0,6	-0,51	-0,34	-0,2
	-0,08	0,05	0,22	0,31	0,48	0,62	0,71	